

学校的理想装备

电子图书·学校专集

校园网上的最佳资源

初中历史课外练习



初中历史课外练习

第 1 课 繁盛一时的隋朝

一、选择题

1. 隋朝统一南北的历史条件是 ()
南北朝后期北方民族大融合
南北朝后期，北方各族之间的矛盾加剧
东晋南朝时期江南经济发展 东晋南朝时期，南方经济受到极大破坏
- A. B. C. D.
2. 隋运河中，黄河至淮水之间的一段称 ()
A. 永济渠 B. 江南河 C. 邗沟 D. 通济渠
3. 谁在位时，正式形成了科举制度？ ()
A. 隋文帝 B. 隋炀帝 C. 陈后主 D. 梁武帝
4. 隋朝时实行的科举制度，正确的叙述应是 ()
加强了地方士族的势力
选拔官吏的权力，集中到中央
门第不高的读书人，可以凭才学参加政权
科举制度的实行比起九品中正制，是历史的进步
- A. B. C. D.

二、填空题

1. 581 年，北周外戚_____夺取政权，建立隋朝，定都_____，他就是_____帝。
2. 隋朝时，在中央设_____省_____部。在地方，把原来的州、_____、县三级，减为州、县两级。
3. _____帝时，废除了魏晋以来的_____制，开始用分科考试的办法选拔官员。
4. 隋朝时的长安，是今天的_____，涿郡是今天的_____，余杭是今天的_____。
5. 隋运河自北而南连接的五大河流是_____、黄河、_____、长江和_____。

三、解释名词

开皇之治：

四、问答题

隋末农民战争是怎样爆发的？隋朝是怎样灭亡的？

第 2 课 从“贞观之治”到“开元盛世”

一、选择题

1. 被郭沫若赞为“政启开元，治宏贞观”的皇帝是 ()
A. 李渊 B. 李世民 C. 武则天 D. 李隆基
2. 唐太宗时期，先后进谏 200 多次的著名大臣是 ()
A. 房玄龄 B. 魏征 C. 姚崇 D. 杜如晦

二、填空题

_____年，李渊称帝，建立唐朝，定都_____李渊就是_____。

三、解释名词

1. 玄武门之变

2. 开元盛世

四、问答题

贞观之治的局面是怎样形成的？

第3课 盛世经济的繁荣


一、选择题

1. 唐朝时的粮食，以什么为主？ ()
小麦 稻米 粟 玉米
A. B. C. D.
2. 唐朝时的衣服，其主要原料有 ()
麻 棉 丝 皮
A. B. C D.
3. 唐三彩陶器是由哪三种颜色装饰后烧成的？ ()
A. 黄、绿、青 B. 绿、红、黄 C. 紫、绿、红 D. 红、黄、紫
4. 唐朝时，铸造工艺高超，其代表作是 ()
长安大雁塔的铁钟 扬州铜镜 随县出土的编钟 博山炉
A. B. C. D.

二、填空题

1. 唐朝时，一年两熟的耕作制在南方出现，_____的耕作制在北方推广。梁和_____这时传入了黄河流域。
2. 饮茶之风在_____时，盛行于长江流域；世界上第一部茶叶专著《_____》，唐朝人陆羽写的。
3. 唐朝时，_____、毫州的绢，质量居全国之首，益州、_____的锦，远近闻名。

三、识图



请回答；

左图中的工具名称叫什么？是哪朝的农民制造的？

这种工具有什么优点？

四、材料解析题

阅读以下材料：

“忆昔开元全盛日，小邑犹藏万家宝。稻米流脂粟米白，公私仓廩俱丰实。”

请回答：

这是谁写的一首诗？题目是什么？

这首诗中的“小邑犹藏万家室”说明了什么？

这首诗反映了什么？

“开元”起止何时？

五、问答题

请你说一说唐朝时长安城的繁华情况。

第4课 “和同为一家”

一、选择题

1. 在北方的少数民族里，第一个创造了自己文字的是 ()
A. 匈奴族 B. 鲜卑族 C. 突厥族 D. 氏族
2. 先后在西突厥地区设立安西都护府和北庭都护府的是 ()
A. 唐高祖、唐太宗 B. 唐太宗、唐高宗
C. 唐高宗、唐玄宗 D. 唐太宗、武则天
3. 建立渤海政权的粟末靺鞨首领是 ()
A. 石勒 B. 苻坚 C. 骨力裴罗 D. 大祚荣
4. 下列少数民族首领，接受过唐玄宗册封的有 ()
皮罗阁 大祚荣 骨力裴罗 尺带珠丹
A. B. C. D.

二、填空题

1. _____世纪末，突厥分裂为东突厥和西突厥。唐太宗时打败东突厥，俘获其首领_____可汗，灭东突厥。_____时，灭西突厥。
2. 回纥是_____族的祖先，唐初游牧在_____河一带。8世纪中期，回纥首领_____建立了回纥汗国。后来，他被_____封为怀仁可汗。

三、材料解析题

1. 阅读下列材料：

“自古皆贵中华，贱夷狄，朕独爱之如一。”

请回答

这是谁说的话？其含义是什么？

这句话说明了什么问题？

2. 阅读下列材料：

“外甥是先皇帝舅宿亲，又蒙降金城公主，遂和同为一家。天下百姓，普皆安乐。”

请回答

这是哪位吐蕃赞普给唐朝皇帝的上书？

为什么他说“外甥是先皇帝舅宿亲”？“先皇帝”指的是谁？

这一上书说明了什么问题？

四、问答题

唐朝时，南诏的发展情况怎样？

第6课 唐朝的衰落和灭亡

一、选择题

1. 开始有节度使称号，是在 ()
A. 唐太宗时 B. 唐高宗时 C. 唐睿宗时 D. 唐中宗时
2. 镇压安禄山叛乱的唐朝大将是 ()
郭子仪 李勋 秦琼 李光弼
A. B. C. D.
3. 以下各项，不属于唐朝藩镇割据的有 ()
A. 节度使自行委派官吏 B. 可以自行铸钱
C. 节度使职位传给儿子或部将 D. 军队不听中央的调动
4. 下列朝代中，宦官专权非常严重的是 ()
西汉 东汉 西晋 唐朝
A. B. C. D.
5. 唐朝结束的年代是 ()
A. 618年 B. 713年 C. 884年 D. 907年

二、填空题

1. 唐朝时的范阳，是今天的_____。唐朝时的长安，是今天的_____。
2. 安史之乱爆发后，唐玄宗逃往_____，太子在_____即位，就是唐肃宗。

三、材料解析题

阅读下列材料：

“待到秋来九月八，我花开后百花杀。冲天香阵透长安，满城尽带黄金甲。”

请回答：

这是谁做的诗？

请说说他的事迹。

四、问答题

1. 安史之乱是怎样爆发的？它对唐朝有什么影响？
2. 唐末农民战争是怎样爆发的？它有什么历史意义？

第7课 封建文化的高峰（一） ——科技发达、宗教兴盛

一、填空题

1. 赵州桥原名_____桥，位于今天_____省赵县的_____可上。它是隋朝工匠_____设计和主持建造的。
2. 唐都长安是当时世界上最大的城市，城里的大明宫_____殿，是长安最宏伟富_____的建筑。
3. 火药是我国古代_____发明的。唐朝中期的书籍里，记载了制成火药的方法。_____朝末年，火药开始用于军事上。
4. 吐蕃著名医学家_____编成的《_____》奠定了藏医学的基础。
5. 唐朝皇帝以道教教主_____的后代自居。_____在位时，道教发展到极盛时期。
6. 隋唐时期，外来的宗教主要有_____教、_____教等。

二、解释名词

僧一行：

三、问答题

请你说一说隋唐时期我国医学发展的情况。

第8课 封建文化的高峰（二）——光耀千古的文坛

一、选择题

1. 唐诗流传下来的有 ()
A. 近4万首 B. 近5万首 C. 近6万首 D. 近7万首
2. 李白的代表作有 ()
《早发白帝城》 《永某氏之鼠》
《望庐山瀑布》 《蜀道难》
A. B. C. D
3. 被称为“小李杜”的诗人是 ()
李商隐 李白 杜牧 杜甫
A. B. C. D.
4. 唐代传奇的出现，主要是为了适应 ()
A. 地主文化生活的需要 B. 贵族官僚文化的需要
C. 农民文化生活的需要 D. 市民文化生活的需要

二、填空题

1. 盛唐时期的诗人中，_____以优美的山水、田园诗闻名；_____以悲壮豪迈的边塞诗著称。
2. “剑外忽传收蓟北，初闻涕泪满衣裳。却看妻子愁何在，漫卷诗书喜欲狂。”出自_____的作品；“世有伯乐，然后有千里马。千里马常有，而伯乐不常有。”出自_____的作品。

三、连线题

把下列文学家及其作品用线连接起来。

- | | |
|-----|---------|
| 李白 | 《小石潭记》 |
| 柳宗元 | 《早发白帝城》 |
| 杜甫 | 《无家别》 |
| 韩愈 | 《秦中吟》 |
| 白居易 | 《杂说》 |

四、材料解析题

1. 阅读下列材料：

“前不见古人，后不见来者；念天地之悠悠，独怆然而涕下。”

请回答

这首诗的题目是什么？作者是谁？

这首诗反映了作者什么样的思想感情？

2. 阅读下列材料：“宣城太守知不知？一丈毯，千两丝。地不知寒人要暖，少夺人衣作地衣。”

请回答

这首诗的题目是什么？作者是谁？

这首诗反映了什么问题？

五、解释名词

古文运动：

六、问答题

为什么后人称杜甫的诗为“诗史”，称杜甫为“诗圣”？

第9课 封建文化的高峰（三）——五彩缤纷的艺术

一、选择题

1. 创造“狂草书”的书法家是 ()
张旭 王羲之 怀素和尚 柳公权
A. B. C. D.
2. 被称为“画圣”的盛唐画家是 ()
A. 吴道子 B. 阎立本 C. 展子虔 D. 顾恺之
3. 曾亲自在梨园教授乐工学习音乐的唐朝皇帝是 ()
A. 唐太宗 B. 唐高宗 C. 唐中宗 D. 唐玄宗
4. 隋唐时期，最盛行的体育活动是 ()
秋千 摔跤 马球 足球
A. B. C. D.

二、填空题

1. 欧阳询和_____是由隋入唐的大书法家，他俩和稍后的_____，被称为初唐的三大书法家。
2. 隋唐时期，对后世影响较大的画家有隋朝的_____和唐朝的_____、吴道子。
3. 著有《乐》的隋朝音乐家是_____；唐朝音乐家_____担任过梨园的导演兼教师。
4. 唐初，李世民令人编制的《_____》，使人观舞不忘创业艰难。盛唐时流行的《_____》，高出众舞之上。唐朝时著名舞蹈家_____善于剑器舞。

三、连线题

将下列人物及其作品用线连接起来：

- | | |
|-----|---------|
| 颜真卿 | 《步辇图》 |
| 吴道子 | 《洛神赋图》 |
| 柳公权 | 《玄秘塔碑》 |
| 阎立本 | 《多宝塔碑》 |
| 顾恺之 | 《天王送子图》 |
| 展子虔 | 《游春图》 |

四、问答题

为什么说敦煌莫高窟是世界上最大的艺术宝库之一？

第 10 课 五代十国的更迭和北宋的政治

一、选择题

1. 十国中前后相继的政权是 ()
前蜀和后蜀 吴和吴越 南汉和北汉 吴和南唐
A. B. C. D.
2. 宋太祖实行“杯酒释兵权”，是接受了谁的建议？ ()
A. 王安石 B. 赵普 C. 范仲淹 D. 范质

二、填空题

后周世宗的名字叫_____。他在位时派兵攻占了南唐和_____的大片土地。

三、填表题

朝代名称	建立者	都城(今地名)
后梁		
	李存勖	洛阳
后晋		开封
	刘知远	开封
	郭威	

四、材料解析题

1. 阅读下列材料：

“先天下之忧而忧，后天下之乐而乐。”

请回答

这是谁的名言？

请简单介绍一下他的事迹。

2. 阅读下列材料：

(太祖)召(赵)普问曰：“天下自唐季以来，数十年间，帝王凡易十姓，兵革不息，苍生涂地，其故何也？……”普曰：“……其故非他，节镇太重，君弱臣强而已矣。今所以治之，无他奇巧也，惟稍夺其权，制其钱谷，收其精兵，天下自安矣。”

请回答

“数十年间，帝王凡易十姓”指的是哪一历史现象？

太祖接受了赵普的建议，采取了什么措施？

五、问答题

1. 后周世宗改革的主要内容有哪些？这次改革的作用是什么？

2. 式述王安石变法的背景、主要内容和结果。

第 11 课 辽、西夏和北宋的并立

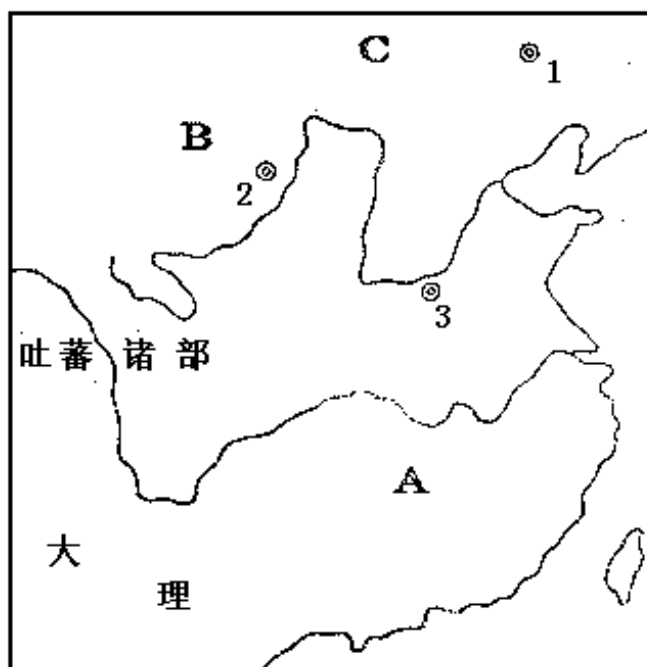
一、选择题

1. 谁在位时，契丹得到了幽云十六州？ ()
A. 耶律阿保机 B. 耶律德光 C. 耶律大石 D. 辽天祚帝
2. 澶渊之盟后，辽宋之间在边境地区进行贸易，辽输往宋的主要有 ()
A. 茶叶 B. 骆驼 C. 马 D. 丝织品

二、填空题

契丹族原先居住在_____河上游一带，过着游牧和_____的生活。早在_____时，他们就同中原往来密切。

三、填图题



辽、北宋、西夏形势图

按上图中英文字母符号填出辽、北宋、西夏的位置：

- A. _____
B. _____
C. _____

按右图中的阿拉伯数字符号，填出辽、北宋、西夏的都城名称

1. _____
2. _____
3. _____

四、解释名词

澶渊之盟：

五、问答题

1. 请你介绍一下耶律阿保机的事迹。

2. 请你介绍一下元昊的事迹。

第 12 课 女真的勃兴和辽、北宋的灭亡

一、选择题

1. 女真族在唐朝时称 ()
A. 回纥 B. 突厥 C. 粟末靺鞨 D. 黑水靺鞨
2. 西辽境内生活的民族有 ()
契丹 回鹘 党项 汉
A. B. C. D.

二、填空题

1. 10 世纪末时，女真族居住在黑龙江、_____江流域和_____山一带。
2. _____年，辽的天祚皇帝被_____军俘虏，辽朝灭亡。
3. _____年，金军掳走_____、宋钦宗及后妃、宗室、大臣等 3000 人，北宋灭亡。历史上称这一变故为“_____”。

三、解释名词

东京保卫战：

四、问答题

请你介绍一下完颜阿骨打的事迹。

第 13 课 金与南宋对峙时的中国

一、选择题

- 南宋都城是 ()
A. 开封 B. 洛阳 C. 应天 D. 临安
- 南宋初年，积极支持北方义军斗争的东京留守是 ()
A. 李纲 B. 韩世忠 C. 宗泽 D. 岳飞
- 作者写“山外青山楼外楼，西湖歌舞几时休？暖风熏得游人醉，直把杭州作汴州。”一诗的主要目的是为了 ()
A. 赞美东京的繁荣 B. 赞美临安的繁华
C. 讽刺南宋统治者醉生梦死 D. 讽刺辽统治者醉生梦死
- 黑汗王朝建立于 ()
A. 9 世纪中期 B. 9 世纪末期
C. 10 世纪中期 D. 10 世纪末期
- 建立大理政权的民族是 ()
A. 彝族 B. 白族 C. 藏族 D. 维吾尔族

二、填空题

- _____年，赵构在_____府做了皇帝。赵构就是_____。
- 南宋初年_____率宋军把金军阻截在_____48 天。在这次战役中，金将兀术险遭生擒。
- 金与南宋议和之后。金为了加强对黄河流域的统治，把都城迁到_____，改名为中都，即今天的_____。
- _____年，南宋与金达成和议，其中规定双方东起_____，西至大散关一线为界，以北为_____统治区，以南为_____统治区。
- _____世纪初，南诏政权覆灭。937 年，_____族建立了大理政权。

三、材料解析题

阅读下列材料：

“方指日渡河，而桧欲画淮以北弃之，风（暗示）台臣（负责谏议和弹劾的官员）请班师。飞奏：‘金人锐气沮丧，尽弃辎重。疾走渡河，豪杰向风，士卒用命，时不再来，机难轻失’。桧知飞志锐不可回，乃先请张俊。杨沂中等归，而后言飞孤军不可久留，乞令班师。一日奉十二金字牌，飞愤惋泣下，东向再拜曰：‘十年之功，废于一旦！’飞班师，民遮马恸哭，……”

请回答

“金人锐气沮丧，尽弃辎重”由何而起？

为什么在岳飞“方指日渡河”的大好形势下，秦桧反而“乞令班师”呢？

四、解释名词

1.八字军：

2.西州回鹘：

第 14 课 五代、辽、宋、夏、金的社会经济（一）

一、选择题

1. 中国南方农业生产逐渐超过北方是在 ()
A. 唐朝 B. 五代时期 C. 北宋时期 D. 南宋时期
2. 两宋时期的重要经济作物是 ()
茶 棉花 烟草 甘蔗
A. B. C. D.
3. 两宋时，著名的瓷窑有 ()
定窑 钧窑 汝窑 邢窑
A. B. C. D.

二、填空题

1. 北宋时，_____一带和_____的丝织生产发达。
2. 我国著名的瓷都原名_____，后来根据宋_____宗的年号而改名为景德镇。

三、材料解析题

阅读下列南宋的谚语：

“苏湖熟，天下足。”

请回答

这个谚语说明了什么问题？

四、问答题

试述宋朝时我国采矿业和造船业的情况。

第 15 课 五代、辽、宋、夏、金的社会经济（二）

一、选择题

1. 下列叙述既符合北宋东京、又符合于南宋临安的是 ()
有瓦肆 有夜市 有早市 市场上可以雇人劈柴、掏井
A. B. C. D.
2. 在哪个城市里，为回鹘商人专辟了居住区“回鹘营”？ ()
A. 金朝时的山西洪洞 B. 北宋东京
C. 南宋临安 D. 辽的上京
3. 宋辽金时期，我国的对外贸易最远到达了 ()
A. 朝鲜 B. 日本 C. 非洲东海岸 D. 东南亚
4. 宋朝时著名的对外贸易港口有 ()
扬州 泉州 明州 广州
A. B. C. D.

二、材料解析题

阅读下列材料：

“市舶之利最厚，若措置得宜，所得动以百万计。”

请回答

这段话是谁说的？是什么意思？

这段话说明了什么？

三、解释名词

交子：

四、问答题

1. 宋朝时的城镇是怎样形成的？

2. 说一说宋都东京的繁华情况。

复习题（一）

一、选择题

1. 隋朝的统治与下列哪个朝代相似？（ ）
A. 西周 B. 秦朝 C. 西汉 D. 东汉
2. 唐朝时，蚕桑的主要产区在（ ）
A. 淮河流域 B. 长江流域 C. 黄河流域 D. 珠江流域
3. “渭水之盟”指的是唐太宗与谁订立盟约？（ ）
A. 颉利可汗 B. 怀仁可汗 C. 皮罗阁 D. 尺带珠丹
4. 唐朝诗人温庭筠写道“疆理虽重海，车书本一家。盛勋归故国，佳句在中华。”这是指唐朝与哪个政权的密切关系？（ ）
A. 南诏 B. 渤海 C. 吐蕃 D. 回纥
5. 哪国物产居唐朝进口之首（ ）
A. 日本 B. 波斯 C. 天竺 D. 新罗
6. 因拥立唐肃宗而受到重用的宦官是（ ）
A. 高力士 B. 李辅国 C. 李林甫 D. 杨国忠
7. 下列人物属于唐末农民战争领导人的有（ ）
张角 黄巢 王仙芝 李密
A. B. C. D.
8. 以悲壮豪迈的边塞诗著称的盛唐诗人是（ ）
A. 岑参 B. 陈子昂 C. 王维 D. 李白
9. 唐太宗的书法老师是（ ）
A. 欧阳询 B. 虞世南 C. 张旭 D. 褚遂良
10. 王安石变法中的哪些措施，触犯了地主和官僚的利益？（ ）
青苗法 方田均税法 农田水利法 募役法 保甲法
A. B. C. D.
11. 耶律阿保机称帝建立契丹国是在（ ）
A. 9 世纪初 B. 9 世纪末 C. 10 世纪初 D. 10 世纪末
12. “靖康之变”指的是（ ）
A. 961 年，石守信等辞职 B. 1004 年，辽军大举进攻北宋
C. 1125 年，金灭辽 D. 1127 年，金灭北宋
13. 北宋与南宋的关系，类似于（ ）
A. 刘宋与萧齐 B. 西魏与东魏
C. 西汉与东汉 D. 西晋与东晋
14. 1141 年宋金和议的内容有（ ）
南宋向金称臣
双方以东起淮水，西至大散关一线为界，界线以北为宋统治区，以南为金统治区
南宋皇帝尊金主为长兄
南宋向金送纳岁币
A. B. C. D.
15. 从阿拉伯人那里接受了伊斯兰教的是（ ）
A. 吐蕃 B. 黑汗王朝 C. 大理 D. 西州回鹘

16. 五代十国时期，兴修水利成就最为显著的是 ()
 A. 吴 B. 吴越 C. 南唐 D. 后蜀
17. 我国的棉纺织业兴起于 ()
 A. 唐朝 B. 五代 C. 北宋 D. 南宋
18. 北宋时，哪里的居民用煤作燃料？ ()
 A. 东京 B. 应天 C. 燕京 D. 上京
19. 下面对南宋临安的叙述，正确的有 ()
 人口达到百万
 太湖流域的稻米、福建的水果都供应到这里
 有夜市和早市
 汴河横贯临安城
 A. B. C. D.
20. “交子”最早出现的地点和时间是 ()
 A. 广东，五代时 B. 四川，五代时
 C. 广东，北宋前期 D. 四川，北宋前期

二、填空题

- 从公元_____年隋朝建立，到_____年唐朝灭亡，是我国_____社会繁荣发展的时期，也是我国历史上著名的隋唐盛世。
- 唐太宗任命富于谋略的_____和善断大事的_____做宰相，人称他们是“房谋杜断”。
- 唐朝农民改进犁的构造，制造了_____，还创制了新的灌溉工具_____。
- 游牧在我国_____山一带的突厥族，在_____世纪中期，建立了突厥汗国。
- “回鹘”由_____改名而成。_____世纪中期，回鹘政权瓦解，人民大部分西迁到今甘肃、_____等地。
- 今天的_____半岛各国，唐朝时称为天竺。贞观年间，高僧_____西游天竺取经，是中印文化交流史上最杰出的使者。
- _____朝工匠李春设计和主持建造的赵州桥，是现存世界上最古老的一座石拱桥。欧洲出现类似的桥，比赵州桥晚_____多年。
- 隋唐时期，崇佛最突出的皇帝是_____和_____。
- 被称为“诗仙”的是_____，被称为“诗圣”的是_____。
- 我国的_____、足球和_____等运动，在唐朝时传到了日本。
- 后周世宗改革发生在_____世纪中期，北宋王安石变法发生在_____世纪后半期。
- _____年，元昊称皇帝，都城在_____；_____年，完颜阿骨打在_____你皇帝，国号金。
- 北宋末年，领导东京保卫战的是_____；南宋初年，留守开封的宋朝老将_____。
- 两宋时期，重要的瓷窑有_____多处，最著名的“五大名窑”是定窑、_____窑、哥窑、_____窑、官窑。
- 宋朝重要的外贸港口有_____、广州和_____。

三、填图题

1. 按下图的英文字母符号填出隋运河四段的名称

A. _____ B. _____

C. _____ D. _____

隋运河的中心是：_____



隋运河图

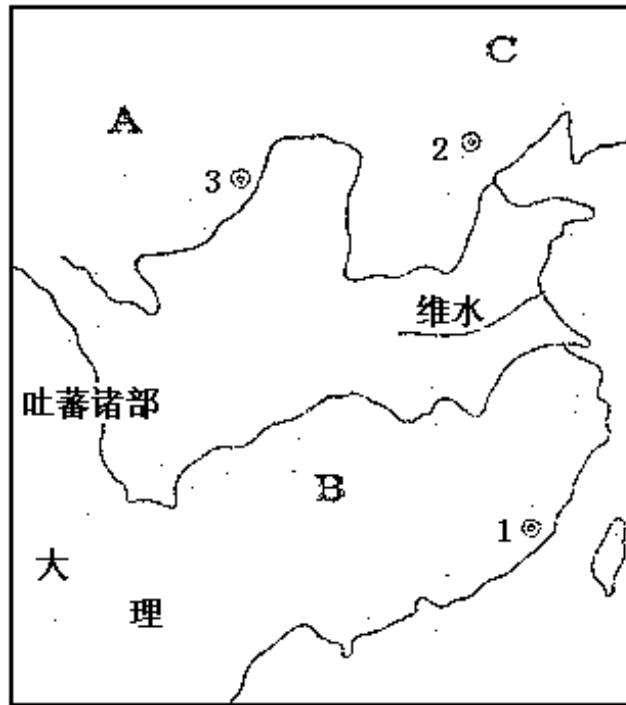
2. 金、南宋对峙形势图

按下页图上的英文字母符号，填出西夏、金、南宋的位置：

A. _____ B. _____ C. _____

按下图中的阿拉伯数字符号，填出西夏、金、南宋的都城名称：

1. _____ 2. _____ 3. _____



金、南宋对峙形势图

四、材料解析题

1. 阅读下列材料：

“贞观十五年，太宗以文成公主妻之，令礼部尚书、江夏郡王道宗主婚，持节送公主於吐蕃。松赞率其部兵次柏海亲迎於河源，见道宗，执子婿之礼甚恭，既而叹大国服饰礼仪之美，俯仰有愧沮之色。及与公主归国，调所亲曰：‘我父祖来有通婚上国者，今我得尚大唐公主，为幸实多，当为公主筑一城，以夸后代。’……所遣酋豪子弟，请入国学，以习诗、书，又请中国识文之人典其表疏。……”

请回答

这段材料指的是什么历史事件？

这一事件有什么重要意义？

2. 阅读下列材料：

“人命至重，有贵千金。”

请回答

这是谁说的话？

请你介绍一下这个人的事迹。

五、解释名词

1. “海东盛国”：

2. 鉴真：

3. 杯酒释兵权：

4. 西辽：

六、问答题

1. 唐朝时，藩镇割据局面是怎样形成的？它产生了什么影响？

2. 岳飞为什么受到人民的尊敬？

3. 试述两宋时期我国农业发展的情况。

第 16 课 元朝的统治

一、选择题

1. 成吉思汗死后至忽必烈继承汗位之前，蒙古灭亡和降服的政权有 ()
- 畏兀儿 西夏 南宋 金 大理
- A. B. C. D.
2. 元统一全国的时间是 ()
- A. 1260 年 B. 1271 年 C. 1276 年 D. 1279 年
3. 元朝实行民族分化政策的主要目的是 ()
- A. 打击汉族地主阶级的势力 B. 进一步摧毁金的残余势力
- C. 巩固蒙古贵族的统治地位 D. 提高畏兀儿贵族的地位

二、填空题

1. _____年，蒙古贵族召开大会，推举_____为大汗，尊称成吉思汗，蒙古政权建立。
2. _____年，忽必烈定国号为元，第二年定都_____。忽必烈就是_____。
3. 元朝时的色目人，包括原西夏人和_____人等。元朝社会的主要矛盾是_____和_____之间的阶级矛盾。
4. _____朝以来，就有不少信仰伊斯兰教的_____人、阿拉伯人在我国一些地区定居。元朝时，又有大批迁入中国。他们同汉、蒙、畏兀儿等族长期杂居相处，逐渐融合，形成一个新的民族，即_____族。

三、材料解析题

阅读下列材料：

“十一月，谍报虜大众至漳、泉，度势不敌……仓卒溃散，逐被执。及至张元帅所，众胁之跪拜，誓死不屈。……寻置海船中，守护甚谨。至崖山，令作书召张世杰，手写诗一首复命，未句云：‘人生自古谁无死，留取丹心照汗青。’张不强而止。”

引自《文山集》卷十六

请回答

写这首诗的人是谁？

诗中“汗青”指的是什么？“虜”指的是谁？

该诗表达了作者的什么气节？

四、问答题

元朝是怎样管辖其辽阔的疆域的？

第 17 课 元朝的社会经济和中外交往

一、选择题

1. 劝说蒙古统治者让汉人继续从事农业的大臣是 ()
A. 耶律楚材 B. 韩延徽 C. 宗泽 D. 耶律大石
2. 元朝的棉纺织业中心在 ()
A. 大都 B. 杭州 C. 苏州 D. 松江
3. 元朝时，最大的港口是 ()
A. 明州 B. 泉州 C. 广州 D. 扬州

二、填空题

1. 元世祖时开凿了_____河和通惠河。这使原有的运河连接起来，漕运粮船可以从杭州直通_____。
2. 元朝时的海运从长江口的_____出发，经_____海、渤海到达_____，再转往大都。
3. 元朝时来中国的外国人里，最著名的是意大利旅行家_____。他在_____时来华，居住了十几年。记述他在东方见闻的《_____》描述了大都、杭州等城市的繁荣。

三、材料解析题

阅读下列材料：

“国以民为本，民以衣食为本，衣食以农桑为本。”

请回答

这段话是谁说的？

这段话说明了什么？

四、解释名词

1. 黄道婆：

2. 元大都

五、问答题

试述元世祖实行发展农业生产的措施。

第 19 课 高度繁荣的宋元文化（二）——史学、文学的重要成就和书院的盛行

一、选择题

1. “唐宋八大家”中唐朝的文学家是 ()
曾巩 柳宗元 王维 韩愈
A. B. C. D.
2. 写出“问君能有几多愁，恰似一江春水向东流”名句的是 ()
A. 李煜 B. 苏询 C. 苏辙 D. 蔡邕
3. 《窦娥冤》的作者是 ()
A. 李清照 B. 关汉卿 C. 马致远 D. 张养浩

二、填空题

1. _____时期的史学家袁枢编成《_____》一书，创作了纪事本末的史书体裁。
2. _____和_____组成元曲。元朝剧作家_____写的《西厢记》，被誉为“天下夺魁”之作。
3. 宋代的著名书院，在今湖南境内的有_____书院和岳麓书院；在今河南境内的有_____书院和嵩阳书院，在今江西境内的有_____书院等。

三、材料解析题

阅读下列材料：

“死去元知万事空，但悲不见九州同。王师北定中原日，家祭无忘告乃翁。”

请回答

这首诗的题目是什么？作者是谁？

这首诗表达了作者的什么思想感情？

请你简单介绍一下这位作者的情况。

四、解释名词

1. 《资治通鉴》：

2. 欧阳修：

五、问答题

1. 宋朝文学的主要成就是什么？

2. 为什么说苏轼对词的发展有突出贡献？

第 20 课 高度繁荣的宋元文化（三）——艺术、体育和宗教的新发展

一、选择题

1. 五代宋元时期，我国古代绘画艺术题材广泛，风格多样，技巧成熟，突出体现在 ()
- 山水画 人物画 花鸟画 鞍马画 风俗画
- A. B. C. D.
2. 其作品被称为“神品”的画家是 ()
- A. 赵孟 B. 荆浩 C. 黄筌 D. 李公麟
3. 两宋时期最盛行的体育活动是 ()
- A. 步打球 B. 摔跤 C. 马球 D. 足球
4. 让大臣尊其为“道君皇帝”的是 ()
- A. 宋太祖 B. 宋徽宗 C. 宋高宗 D. 元世祖

二、填空题

1. 宋朝人物画以_____的最为有名，他流传下来的代表作品有《_____》和《维摩居士像》等。
2. 宋朝著名的书法家有_____、黄庭坚、_____、蔡襄，人称“宋四家”。
3. _____下令雕版刻印《_____》，这是我国历史上第一次大规模印刷佛经。

三、解释名词

《清明上河图》：

四、问答题

元朝的宗教有什么特点？

第 21 课 明朝君主专制空前加强

一、选择题

1. 在元末农民大起义中，对元朝统治打击最大的是 ()
刘福通领导的起义军 张士诚领导的起义军
郭子兴领导的起义军 徐寿辉领导的起义军
A. B. C. D.
2. 哪位皇帝在位时，设立了特务机构东厂？ ()
A. 明太祖 B. 明成祖 C. 明宪宗 D. 明建文帝

二、填空题

1. 元朝末年，朱元璋参加_____起义军，后来，成为这支军队的领导人。他采纳朱升“_____”的建议，实力不断壮大。
2. _____年初，朱元璋在应天称帝，建立明朝，年号_____。朱元璋就是_____。
3. 1368 年秋，大将_____、_____率领明军攻入大都。元_____帝北逃，元朝在全国的统治结束。
4. 明政府规定科举考试只许在四书和_____范围内命题。四书是指《_____》、《中庸》、《_____》、《孟子》。
5. 1421 年，_____把都城从南京迁到_____。

三、材料解析题

阅读下列材料：

“堂堂大元，奸佞当权。开河变钞祸根源，惹红巾万千。”

请回答

这是哪朝的散曲？

它反映了当时的什么社会情况？

四、问答题

1. 明太祖朱元璋是怎样加强封建专制主义中央集权的？
2. 试述“靖难之役”的起因、经过和结果？

第 22 课 稀疏的资本主义萌芽

一、选择题

1. 明朝时，出现三季稻的地区是 ()
A. 福建 B. 浙江 C. 贵州 D. 海南
2. 明朝时从国外引进的蔬菜有 ()
番茄 洋白菜 胡萝卜 辣椒
A. B. C. D.
3. “机户出资，机工出力”的机房指的是 ()
A. 手工作坊 B. 手工工场
C. 机器生产的工厂 D. 封建庄园

二、填空题

1. 明朝时，苏州和_____的丝织品产量大，质地精美。_____的潞绸、四川的_____，名闻天下。
2. 明朝时的制瓷业进入了以_____瓷为主的时期。_____居全国制瓷业之百。
3. 明朝时，采掘矿石用_____爆破；冶炼金属用_____作燃料。当时的冶铁中心有河北的_____和广东的佛山等。
4. 明朝中后期，苏州、松江等地有许多以纺织为业的机户，开设“机房”，雇佣“机工”进行生产。“机房”就是_____，“机户”是早期的_____，机工是早期的_____。机户与机工之间是雇佣与被雇佣的关系，也就是_____性质的生产关系。

三、材料解析题

阅读下列材料：

“天下初定，百姓财力俱困，譬犹初飞之鸟，不可拔其羽；新植之木，不可摇其根，要在安养生息之。”

请回答

上述言论出自于谁？

他为什么要“安养生息之”？

当时实行的休养生息政策具体有哪些？效果如何？

2. 阅读下列材料：

“买不尽松江布，收不尽魏塘纱。”

请回答

这是什么时期的民间谚语？

这个谚语说明了什么？

第 24 课 蒙古雄踞漠北和满洲的兴起

一、填空题

1. _____ 世纪末，蒙古分裂为 _____ 和瓦剌等部。后来，后者打败了前者。

2. _____ 世纪中期，女真的一支 _____ 女真，辗转迁到辽东长城外面，过着 _____ 和畜牧、 _____ 生活。

3. 1616 年， _____ 称汗，建都 _____，国号金，史称后金。在萨尔浒战役之后，后金把都城迁到 _____。

4. _____ 年，皇太极改女真族名为 _____。第二年，他称皇帝，改国号为清。皇太极就是 _____。

二、材料解析题

阅读下列材料：

“粉骨碎身全不惜，要留清白在人间。”

请回答

这是谁的诗句？

请说一说他的事迹。

三、解释名词

1. 土木之变：

2. 萨尔浒之战：

四、问答题

1. 俺答汗对促进蒙汉两族的关系作出了什么贡献？

2. 皇太极在继承汗位后在经济、政治、军事上采取了哪些措施

第 25 课 明末农民战争

一、选择题

1. 魏忠贤利用哪些特务机关残害百姓？ ()
锦衣卫 东厂 西厂
A. B. C. D.
2. 明末农民战争爆发的原因有 ()
政治黑暗 土地高度集中
赋税十分沉重 山东、河南天灾最重
A. B. C. D.
3. 李自成起义军建立的政权，国号是 ()
A. 大顺 B. 大齐 C. 大西 D. 大楚
4. 腐朽的明王朝被农民军推翻，是在 ()
A. 1628 年 B. 1643 年 C. 1644 年 D. 1662 年
5. 农民军进入北京后，原驻守在山海关投降清朝的明朝将领是 ()
A. 尚可喜 B. 吴三桂 C. 耿仲明 D. 耿精忠

二、填空题

1. _____ 年，明末农民战争首先在 _____ 爆发。
2. 李自成率起义军进入河南后，提出“ _____ ”的口号，受到人民拥护。在河南，起义军处死贪暴的福王 _____ ，把他的粮食、财物，分给饥民。
3. 清军入关后， _____ 帝迁都北京，由 _____ 辅佐。
4. 李自成进入北京后，张献忠率领的农民军占领 _____ ，在那里建立政权，国号 _____ 。
5. 提出“城存与存，城亡与亡。我头可断，而志不可屈！”的南明将领是 _____ 。他率军守卫 _____ ，最后城破，他不屈而死。

三、解释名词

东林党：

第 26 课 具有鲜明时代特点的明朝文化（一）
——进步的科技和思想

一、选择题

1. 北京城中的宫城，又称 ()
A. 皇城 B. 京城 C. 外城 D. 紫禁城
2. 明朝时的太庙，是今天的 ()
A. 中山公园 B. 北海
C. 劳动人民文化宫 D. 故宫博物院
3. “南京锁钥无双地，万里长城第一关”中的第一关，指的是 ()
A. 居庸关 B. 函谷关 C. 山海关 D. 嘉峪关
4. 反映了我国明朝时期手工工场生产面貌的著作是 ()
A. 《农政全书》 B. 《本草纲目》
C. 《梦溪笔谈》 D. 《天工开物》
5. 明朝后期提倡婚姻自由的进步思想家是 ()
A. 黄宗羲 B. 李贽 C. 顾炎武 D. 王夫之
6. 下列我国古代的科技著作，哪一组的两项不属同一领域？ ()
A. 《周髀算经》和《天工开物》 B. 《齐民要术》和《农政全书》
C. 《水经注》和《徐霞客游记》 D. 《千金方》和《本草纲目》

二、填空题

1. 明长城东起_____，西到_____，全长_____多公里，气势雄伟，是世界奇迹之一。
2. _____朝末年，杰出的地理学家徐霞客写的《_____》，最早揭示了国西南地区_____岩的各种特征。

三、解释名词

1. 《本草纲目》：

2. 徐光启：

四、问答题

为什么说李贽、王夫之、黄宗羲、顾炎武的思想是进步的？试分别介绍一下这四位思想家的思想主张。

第 27 课 具有鲜明时代特点的明朝文化（二）——小说、戏剧的繁荣和
书法、绘画的成就

一、选择题

1. 明朝的“吴门三家”指的是苏州的哪三个书法家？（ ）
文征明 赵孟 祝允明 王宠
A. B. C. D.
2. 其字兼有“颜骨赵姿”的明朝书法家是（ ）
A. 董其昌 B. 欧阳询 C. 柳公权 D. 张旭

二、填空题

1. 明朝戏剧家_____写的《牡丹亭》，通过爱情故事，鞭挞了吃人的_____。
2. 明朝中期以后出现的“吴派”画家，主要指的是沈周、_____、唐寅和_____四大家。

三、问答题

1. 明代的三大奇书指的是什么？请你简单介绍一下。
2. 试述明代后期绘画方面的代表人物及其特点

复习题（二）

一、选择题

1. 隋运河最北的一段称 ()
A. 邗沟 B. 通济渠 C. 江南河 D. 永济渠
2. 唐中央政府俘获东突厥首领颉利可汗是在 ()
A. 唐高祖时 B. 唐太宗时 C. 唐高宗时 D. 唐玄宗时
3. 来唐朝的日本留学生里，最有名的是从奈良来到中国的 ()
A. 吉备真名 B. 阿倍仲麻吕 C. 崔致远 D. 空海
4. 赵州桥修建后至今，已经历了 ()
A. 1100 多年 B. 1300 多年 C. 1500 多年 D. 1700 多年
5. 下列作品，属于唐代传奇的有 ()
《水浒传》 《李娃传》 《柳毅传》 《南柯太守传》
A. B. C. D.
6. 王安石变法的哪些措施，增加了政府的财政收入？ ()
农田水利法 保甲法 募役法 方田均税法 青苗法
A. B. C. D.
7. 西州回鹘以哪里为中心？ ()
A. 高昌 B. 于阗 C. 兴庆 D. 虎恩斡耳朵
8. 东京的“瓦肆”主要是什么场所？ ()
A. 贸易场所 B. 政府的官署
C. 皇帝居住和处理国政的地方 D. 居民娱乐的场所
9. 元灭南宋是在 ()
A. 1206 年 B. 1271 年 C. 1276 年 D. 1294 年
10. 棉布成为江南人们的主要衣料，开始于 ()
A. 北京 B. 南宋 C. 元朝 D. 明朝
11. “外国巨价异物及百物之输入此城者，世界诸城无能与比。”这是马可波罗对哪座城市的描述？ ()
A. 杭州 B. 大都 C. 广州 D. 泉州
12. 在我国，指南针应用于航海开始于 ()
A. 唐朝 B. 五代 C. 北宋 D. 南宋
13. 把我国发明的火药传入欧洲的是 ()
A. 意大利人 B. 波斯人 C. 阿拉伯人 D. 希腊人
14. “生当作人杰，死亦为鬼雄。至今思项羽，不肯过江东！”的作者是 ()
A. 李清照 B. 辛弃疾 C. 苏轼 D. 陆游
15. 司马光主编的《资治通鉴》是一部 ()
A. 编年体断代史 B. 纪传体断代史
C. 编年体通史 D. 纪传体通史
16. 朱元璋的重要谋士有 ()
张士诚 朱升 李善长 刘基
A. B. C. D.
17. 在土木之变中，被俘虏的明朝皇帝是 ()

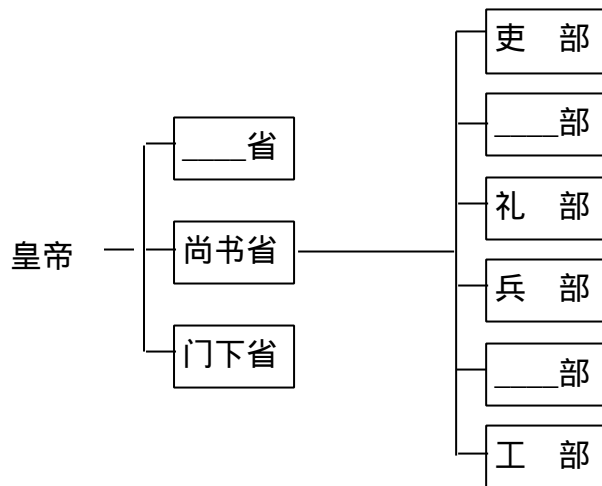
- A. 明成祖 B. 明宪宗 C. 明建文帝 D. 明英宗
18. 萨尔浒之战的作战双方是 ()
- A. 明军与后金军队 B. 明军与蒙古军队
- C. 后金军队与蒙古军队 D. 蒙古军队与西夏军队
19. 被国外称为“中国 17 世纪的工艺百科全书”的是 ()
- A. 《农政全书》 B. 《天工开物》
- C. 《本草纲目》 D. 《徐霞客游记》
20. 被称为明代三大奇书的是 ()
- 《水浒传》 《三国演义》 《红楼梦》 《西游记》
- A. B C. D.

二、填空题

- 唐玄宗时的户数是唐太宗时的近_____倍。
- 唐朝时的瓷器，以_____窑的青瓷和_____窑的白瓷最负盛名。
- 回纥是_____族的祖先，吐蕃人是_____族的祖先。
- 唐朝时中国的_____、纺织、制瓷等技术，传入大食，又通过大食传到_____洲、_____洲的许多国家。
- 继王羲之之后，我国书法史上最有成就的书法家是_____朝的_____。
- 辽的都城上京在今_____巴林左旗南。西夏的都城_____，在今宁夏银川。金的都城中都，在今_____。
- 在宋朝的海外贸易中，中国以输出瓷器和_____为主，进口货物多为香料、_____等。
- 元朗时的人都是今天的_____，直沽是今天的_____。
- _____朝时，畏兀儿农学家_____著有《农桑衣食撮要》一书。这部书按_____记述全年各个时节的农业生产活动。
- 16 世纪时，_____、广东等地从国外引进原产_____洲的玉米、甘薯等高产作物，很快推广开来。
- _____世纪时，一些欧洲殖民者相继来我国沿海地区进行侵略活动。_____年，_____殖民者攫取了在我国广东澳门的居住权。
- _____创立了八旗制度，使编入八旗的壮丁“_____”，平时耕猎，战时出征。
- 明朝时的北京城有三重，最里面是_____城，又叫紫禁城。紫禁城的外面是皇城，皇城外而是_____城。
- 后人归纳_____的爱国思想为“天下兴亡，匹夫有责”；认为“圣人不曾高，众人不曾低”的思想家是_____。
- 明朝的书法，以行书和_____见长。明朝后期的书法代表人物是_____，他的字兼有“颜骨赵姿”。

三、填图表

- 填出下面唐朝三省六部制的示意图表



2. 填出下列元朝划分的四等人表格

名 称	民 族
蒙古人	_____族
_____人	包括原_____人和畏兀儿人等
汉 人	原金统治地区的_____族和契丹、女真等族
_____人	原_____统治区的_____汉族和其他各族

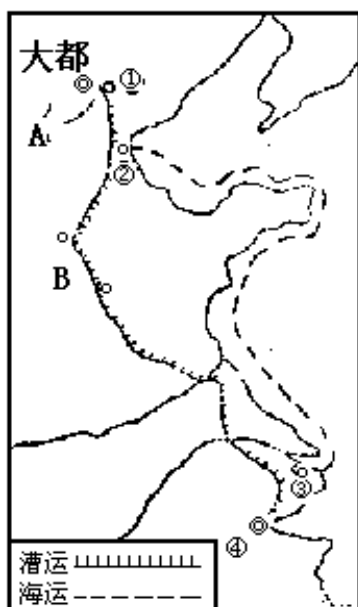
四、连线题（把下列文学家和他们的作品用线连起来）

- | | |
|--------|--------------------|
| 1. 陆游 | “知否？知否？应是绿肥红瘦。” |
| 张养浩 | “江山如画，一时多少豪杰。” |
| 李清照 | “夕阳西下，断肠人在天涯。” |
| 马致远 | “兴，百姓苦。亡，百姓苦。” |
| 苏轼 | “王师北定中原日，家祭无忘告乃翁。” |
| 2. 辛弃疾 | 《牡丹亭》 |
| 吴承恩 | 《破阵子·醉里挑灯看剑》 |
| 李白 | 《黔之驴》 |
| 柳宗元 | 《早发白帝城》 |
| 汤显祖 | 《西游记》 |

五、填图题

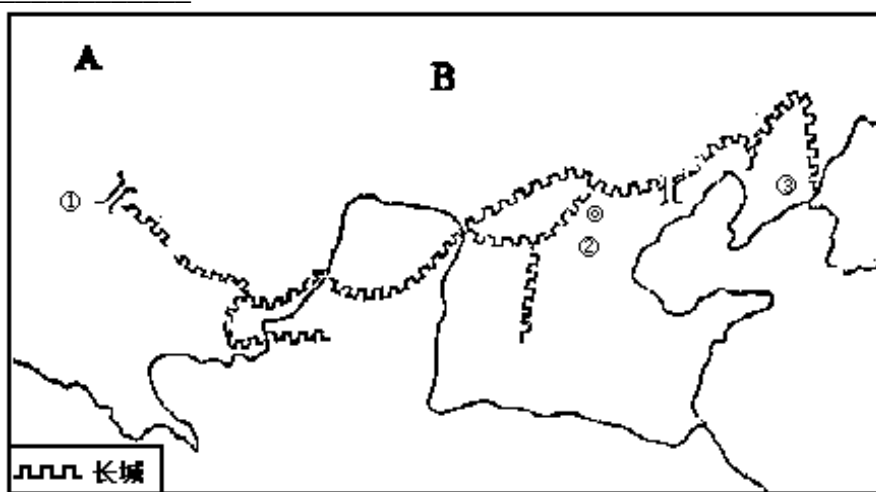
1. 按右图中英文字母符号，分别填出元朝时开凿的两段运河的名称。

- A. _____
B. _____



元朝的运河和海运航线

按右图中阿拉伯数字符号，分别填出元朝漕运、海运有关地点的名称



明朝的长城示意图

按上页图中标出的英文字母行号，分别填出 15 世纪初蒙古分裂为两部分的名称：

A. _____ B. _____

按上页图中标出的阿拉伯数字符号，分别填出明长城的起止点及明朝都城名称：

六、材料解析题

1. 阅读下列材料：

“上问魏征曰：‘人主何为而明。何为而暗？’对曰：‘兼听则明，偏信则暗。昔尧请问下民，故有苗之恶得以上闻；舜阴四月，达四聪。故共，鯨。欢兜不能蔽也。秦二世偏信赵高，以成望夷之祸；梁武帝偏信朱异，以取台城之辱；隋炀帝偏信虞世基，以致彭城阁之变。是故人君兼听广纳，则贵臣不得拥蔽，而下情得以上通也。’上曰：‘善！’”

——引自《资治通鉴》

请回答

文中的“上”指谁？

这段引文的论点是什么？

引文表现了“上”的什么作风？魏征的什么作风？

2. 阅读下列材料：

“罢丞相不设，析中书省之政归六部，以尚书任天下事，侍郎贰之。而殿阁大学士只备顾问，帝方自操威柄，学士鲜所参决。”

——引自《明史》卷七二

请回答

文中的“帝”指的是谁？

“帝方自操威柄”是什么意思？说明什么？

七、解释名词

1. 松赞干布：

2. 安史之乱：

3. 行省制度：

4. 北京保卫战：

八、问答题

1.为什么说元朝的统一促进了民族融合？

2.为什么说明朝中后期出现了资本主义萌芽？

3.试述郑和下西洋的背景、简况和意义。

参考答案

第 1 课

一、1.C 2.D 3.B 4.C

二、1.杨坚 长安 隋文 2.三 六 郡 3.隋文 九品中正 4.陕西西安北京浙江杭州 5.海河 淮河 钱塘江

三、开皇之治：隋文帝即位以后，实行改革，崇尚节约。他在位 20 多年间，国家统一、安定，人民负担较轻，经济繁荣发展。全国户数，增加近一倍。隋文帝的年号是“开皇”，史称隋文帝的统治为“开皇之治”。

四、（1）爆发

隋炀帝是我国古代有名的暴君。为满足骄奢的欲望，他营建东都洛阳，修造豪华的宫殿。每月役使民工 200 万人，死者不计其数。

大运河开通以后，隋炀帝多次从洛阳乘龙舟游江都，随行的船只 5000 多艘，绵延 200 余里。沿途州县要备办丰厚的贡品和上好食品，迎送过往船只。

隋炀帝三次发动对高丽的战争，都失败了。出兵前，他征调上百万民工和士兵，修造船只，运输军粮。

无休止的徭役和兵役，迫使千千万万的农民离乡背井，大量田地荒芜。农民靠树皮、野菜充饥，甚至发生人吃人的惨剧，终于导致大规模的农民起义。

（2）隋朝灭亡

611 年，山东长白山农民首先发动起义，全国各地农民纷纷响应。

全国规模较大的起义有几十处之多。其中最主要的是翟让、李密领导的瓦岗军。

隋朝在瓦岗军和各地农民起义军的打击下，陷于瓦解。618 年，隋炀帝在江都被部将杀死。繁盛一时的隋王朝覆灭了。

第 2 课

一、1.C 2.B

二、618 长安 唐高祖

三、1.玄武门之变：李渊称帝后，皇室内部争夺帝位继承权的斗争日益激化。626 年，秦王李世民发动政变，杀死太子李建成等，史称“玄武门之变”。后来不久，李世民做了皇帝，他就是唐太宗。

2.开元盛世：唐玄宗统治前期很有作为，任用熟悉吏治、富于改革精神的姚崇、宋璟为相，励精图治。这时唐朝的政治比较安定，经济繁荣、发展，唐朝进入全盛时期。中国封建社会呈现前所未有的盛世景象。唐玄宗这一时期的年号叫“开元”，史称“开元盛世”。

四、（1）唐太宗吸取隋亡的教训，认识到皇帝要勤于政事，大臣要廉洁奉公，政府要轻徭薄赋、发展生产，统治才能巩固。

（2）唐太宗以善于用人和重视纳谏著称。他统治时期，名相名将辈出。

（3）唐朝沿用隋朝的三省六部制。还合并州县，革除唐初“民少吏多”的弊政，从而节省了开支、有利于减轻人民的负担。

(4) 太宗时，科举增加了考试科目，以进士科最为重要。唐太宗重视文化教育，中央设有国子学、太学等，地方州县也有学校。

(5) 唐太宗时，农民占有一定土地，劳役负担比较轻，生产时间有所保证，大量荒地开垦出来，社会经济出现繁荣景象。

(6) 总之，唐太宗时期，政治比较清明，经济有所发展，国力逐步强盛。唐太宗的年号为“贞观”，历史上称当时的统治为“贞观之治”。

第3课

一、1.D 2.C 3.A 4.C

二、1. 两年三熟 荞麦 2. 南北朝 茶经 3. 宋州 扬州

三、曲辕犁；唐朝。

便于深耕，也节省畜力。

四、是杜甫写的，题目叫《忆昔》。

说明唐玄宗并无时，人口大大增加。

反映了唐朝开元年间的繁荣富庶景象。

713~741年。

五、(1) 唐都长安宏伟富丽。城内有市、有坊，市为繁华的商业区，坊是住宅区，市坊分开。全城街道整齐，树木成行，两边有排水设施。

(2) 唐都长安有宫城，是皇帝居住和处理国政的地方；皇城里面有政府的官署。

(3) 长安城拥有百万人口，身着各式服装的边疆各族和各国侨民，云集到这里，往来的商旅熙熙攘攘。市内店铺林立，有200多种行业，四方珍奇积聚，繁华异常。唐代长安是各民族交往的中心，也是一座国际性的大城市。

第4课

一、1.C 2.D 3.D 4.B

二、1.6 颉利 唐高宗 2. 维吾尔 色楞格 骨力裴罗 唐玄宗

三、1. 是唐太宗说的话，意思是自古以来都只重视汉族，看不起少数民族，我却一样地爱护他们。

说明唐太宗实行比较开明的民族政策。

2. 是尺带珠丹给唐朝皇帝的上书。

因松赞干布与文成公主成亲，唐朝皇帝是尺带珠丹的自家。先皇帝是指唐太宗。

说明吐蕃与唐朝的关系亲密，反映了汉藏两族自古以来关系密切。

四、(1) 7世纪初，在云南洱海一带分布着六诏，彝族和白族的祖先居住在那里。最南边的南诏，逐渐强大起来。

(2) 8世纪前期，南诏首领皮罗阁统一六诏。唐玄宗封他为云南王。

(3) 为了发展南诏的经济文化，南诏王不断派贵族子弟到长安、成都学习。汉族工匠也进入南诏，加快了南诏丝织、冶铁和建筑业的发展。气势雄伟的千寻塔，体现了南诏建筑艺术的最高水平。

第5课

一、1.B 2.C 3.A 4.C

二、1. 7 江浙 2.波斯 大食 3.高 40 广州

三、1. (1) 从贞观年间开始，日本遣唐使来中国的有 13 次之多。同来的还有留学生、留学僧等。日本留学生里，最有名的是阿倍仲麻吕。唐朝赴日本的使者和僧人也不少，其中最有影响的是鉴真和尚。

(2) 唐朝和日本贸易繁盛。日本大量出土唐货币“开元通宝”，中国境内也发现日本银币“和同开珎”。

(3) 日本受唐朝文化影响很大，日本的都城平城京的建筑样式，几乎同长安一样。唐诗在日本广泛流传，日本士大夫热衷学习中国书法。唐朝的饮食和风俗习惯传入日本。日本今天的一些习俗，如重阳节登高，就来自唐朝。

2. (1) 今天的印度半岛各国，唐朝时称为天竺。唐和天竺往来不绝。贞观年间，高僧玄奘西游天竺取经，是中印文化交流史上最杰出的使者。

(2) 我国的纸张和造纸术在唐朝时传入天竺，天竺从此结束了用桦树皮和贝叶写字的时代。

(3) 唐太宗派人到天竺学习熬制砂糖的技术。天竺的数学、天文、医学，编入唐朝的书籍。唐朝乐舞里有天竺乐舞。隋唐的石窟艺术、佛塔寺院建筑样式，也吸收了天竺的风格。

第 6 课

一、1.C 2.D 3.B 4.C 5.D

二、1.北京 陕西西安 2.蜀中 灵武

三、黄巢

黄巢是唐末农民大起义的领袖，于 875 年领导农民起义，采取流动作战的方针，转战大半个中国。后来，他在长安建立了政权，国号大齐。884 年，起义被唐朝统治者镇压，黄巢自杀。

四、1. (1) 爆发

唐玄宗统治后期，日益骄奢，宠爱杨贵妃，不理政事。他用奸诈的李林甫、杨国忠为相，朝政腐败，预伏着危机。

755 年，节度使安禄山趁唐朝政治腐败，内地兵力空虚，在范阳发动叛乱。后来，安禄山的部将史思明又起兵反唐，直到 763 年，唐朝才打败叛军。这场持续八年的战争，历史上叫作“安史之乱”。

(2) 影响：安史之乱使北方生产大受摧残，田地荒芜，人民流离失所，许多州县成为废墟。唐朝从此由强盛转向衰落。

2. (1) 爆发：唐朝后期，统治者腐朽贫婪，大肆兼并土地 灾荒年月照旧催收租税。加之战火连绵，农民无法生活下去。终于在 875 年在河南、山东爆发了农民大起义。

(2) 意义：唐末农民战争沉重打击了地主阶级，瓦解了唐朝的反动统治。

第 7 课

一、1.安济 河北 李春 2.含元 3.炼丹家 唐 4.元丹贡布 四部医典 5.李耳 唐玄宗 6.景 伊斯兰

二、僧一行：僧一行是唐玄宗时著名的天文学家。他倡议政府派人到全国进行天文测量。根据测量结果，他测算出子午线的长度（对测知地球大小有很大关系），这在世界上是第一次。他还编制了《大衍历》，这是当时最精密的历法。

三、（1）宗太宗贞观年间，政府办了分科较细的医学校，比西方早 200 年。

（2）唐高宗时，政府组织人编写的《唐本草》，是世界上第一部由国家编定颁布的药典，比欧洲早 800 多年。

（3）唐朝最杰出的医学家孙思邈，写成《千金方》，在我国医学史上占有重要地位。后世尊称他为“药王”。

第 8 课

一、1.B 2.C 3.A 4.D

二、1.王维 岑参 2.杜甫 韩愈

三、李白	《早发白帝城》
柳宗元	《小石潭记》
杜甫	《无家别》
韩愈	《杂说》
白居易	《秦中吟》

四、1. 题目是《登幽州台歌》，作者是陈子昂。

这首诗写出陈子昂虽有远大抱负，但不能施展才华的优愤和感慨。

2. 这首诗的题目是《新乐府·红线毯》，作者是白居易。

这首诗揭露了地方官强迫人民织造地毯、进贡皇帝的社会现象，反映了中唐时期政治的黑暗和人民的痛苦。

五、古文运动：中唐时期，著名文学家韩愈、柳宗元倡导继承古代散文的优良传统，创造出一种适于反映现实生活的新文体，得到众多的文学家的赞同。这就是古文运动。

六、杜甫生活在唐朝由繁盛转向衰落的时代。他大量的诗，深刻地反映了那个复杂、动荡的历史时期，后人称他的诗为“诗史”。他的“三吏”、“三别”就是诗史里的不朽篇章。他的诗，有的气魄雄浑。有的沉郁悲怆。语言都很锤炼、凝重，表现出高超的艺术技巧。人们称他为“诗圣”。

第 9 课

一、1.C 2.A 3.D 4.D

二、虞世南 褚遂良 2.展子虔 阎立本 3.万宝常 李龟年 4.秦王破阵舞
霓裳羽衣舞 公孙大娘

三、颜真卿	《多宝塔碑》
吴道子	《天王送子图》
柳公权	《玄秘塔碑》
阎立本	《步辇图》
顾恺之	《洛神赋图》
展于虔	《游春图》

四、（1）在今天甘肃西部的敦煌莫高窟，其中十分之六七的洞窟，是隋唐时

期开凿的。

(2) 我国古代劳动人民在莫高窟里绘制了大量精美的壁画，现存壁画总面积有 4.5 万多平方米，内容表现了佛教故事，不少画面反映出隋唐时期社会的繁荣。壁画的色彩绚丽夺目，形象生动。另外，这些洞窟里，还塑造了无数形象生动的塑像。

(3) 敦煌莫高窟是世界上最大的艺术宝库之一。

第 10 课

一、1.C 2.B

二、柴荣 后蜀

朝代名称	建立者	都城(今地名)
	朱温	开封
后唐		
	石敬瑭	
后汉		
后周		开封

四、范仲淹。

范仲淹是北宋仁宗时的著名大臣。他针对当时的弊病，提出很多改革建议。

2. 五代十国的分裂局面。

“杯酒释兵权”削夺朝中大将的兵权；不久，又解除地方节度使的兵权；派文臣到各地做地方官，并派官员管理财政；编制禁军，由皇帝直接控制。

五、1. (1) 主要内容：

安顿流亡农民。

减免苛捐杂税。

惩治贪官污吏。

大力整顿军队，严肃军纪。

(2) 作用：这次改革使后周强大起来，为后来结束分裂割据局面，准备了重要条件。

2. (1) 背景

北宋中期，官俸和军费开支浩大，政府财政入不敷出。

北宋政府实行不限制兼并的政策，土地集中现象严重，社会阶级矛盾尖锐。

宋神宗决心消除各种弊病，克服统治危机，于 1069 年任用王安石主持变法，以达到富国强兵的目的。

(2) 主要内容：青苗法、募役法、方田均税法、农田水利法、保甲法等。

(3) 结果

新法推行后，政府收入有所增加；

促进农业生产，全国各地兴修水利工程 1 万多处；

增强国家军事力量；
但是，由于用人不当，变法过程中出现了一些危害百姓的情况；
新法触犯了大官僚、大地主的利益，遭到他们强烈反对。宋神宗死后，
1086年司马光出任宰相，新法几乎全部废除。

第 11 课

一、1.B 2.D

二、辽 渔猎 北魏

三、A.北宋 B.西夏 C.辽

1.上京 2.兴庆 3.东京

四、澶渊之盟；1004年秋，辽军大举进攻北宋，一直打到黄河岸边的澶州城下，威胁宋的都城。宰相寇准坚决主张抵抗，要求皇帝亲征。宋真宗勉强来到澶州城。宋军士气大振，打退辽军。第二年，辽宋达成和议，辽撤兵，北宋答应送给辽岁币，这就是澶渊之盟。

五、1.（1）耶律阿保机就是辽太祖，契丹族杰出的政治家。

（2）他于10世纪初，统一契丹各部。

（3）他提倡农业，任用汉族文人韩延徽等，制定各项典章制度，接受中原封建文化。

（4）916年，他称皇帝，建立契丹国。

（5）他在位期间，契丹创制了文字。

（6）契丹建国以后，成为北方一个强大的民族政权，境内生活着契丹、

汉、女真、回鹘等族人民。

2.（1）元昊是羌族的一支党项族的首领。

（2）1038年，元昊称大夏国皇帝。

（3）他仿效宋朝制度，建立官制和兵制，并任用一些汉族人担任重要官职。

（4）他在位时，西夏还创制了文字。

第 12 课

一、1.D 2.C

二、1.松花 长白 2.1125 金 3.1127 宋徽宗 靖康之变

三、东京保卫战：金灭辽后，于1125年冬，大举进攻北宋，围困宋都东京。宋钦宗任命主战派大臣李纲，负责东京防务。李纲领导军民，多次击退金兵。各地援军也赶往东京救援。抗金形势刚刚好转，宋钦宗就向金求和，罢免了李纲。太学生陈东等几百人向朝廷上书，要求恢复李纲职务，得到数万军民的响应和声援。钦宗只得重新起用李纲，金军又被击退。

四、（1）完颜阿骨打即金太祖，是女真族的杰出首领。

（2）他年轻时就胸怀大志，很有计谋。

（3）12世纪初，完颜阿骨打率众起兵抗辽，不断取得胜利。

（4）他于1115年在会宁称皇帝，国号金。

（5）金建立初年，创制了女真文字。

第 13 课

一、1.D 2.C 3.C 4.C 5.B

二、1.1127 应天 宋高宗 2.韩世忠 黄天荡 3.燕京 北京 4.1141 淮水 金南宋 5.10 白

三、1140 年，郾城之战，金兵主力被打败。

宋高宗和秦桧偏安一隅，害怕抗金力量的壮大，会威胁他们的统治。

四、1.八字军：金军进入黄河流域时，那里的人民纷纷拿起武器，反抗金统治者的掠夺屠杀。他们组成义军，给金军以沉重打击。王彦领导的“八字军”是义军中著名的一支，八字军在脸上刺了“赤心报国，誓杀金贼”八个字，他们在太行山一带多次重创金军。由于八字军等义军的抵抗，金军在中原长期不能站稳脚跟，南下也受到很大牵制。

2.西州回鹘：9 世纪中期，回鹘西迁。一部分到了今新疆地区，以高昌为中心，建立政权，史称西州回鹘。西州回鹘的农牧业和手工业都很发达，他们同宋朝往来密切，经常互派使团。

第 14 课

一、1.B 2.C 3.A

二、1.江浙 四川 2.昌南镇 真

三、说明南宋时期，苏州、湖州所在的太湖流域已成为重要的粮仓。

四、（1）采矿业

北宋金、银、铜、铁等矿藏开采量很大，居当时世界第一位。

尤其引人注目的是煤的大量开采。河北、山西是那时煤的重要产地。东京的许多居民以煤作燃料。大量的煤还用来冶炼铜、铁等金属。金朝煤的产量和使用也相当可观。

（2）造船业：宋朝时，我国是世界上造船水平最先进的国家。东南沿海的广州、泉州、明州等地，都有发达的造船业。北宋东京郊外，建有世界上最早的船坞。南宋沿海地区制造的海船，规模宏大。当时，我国造的船上装有指南针，能准确辨识航向。金朝还造出一种破冰船，它是我国人民的可贵创造。

第 15 课

一、1.A 2.D 3.C 4.D

二、这段话是宋高宗说的。意思是：海外贸易获利最丰厚，如果经营得当，可以获得上百万的收入。

说明宋朝政府重视和鼓励发展海外贸易。三、交子：宋朝市场上，流通大量金属货币，有铜钱、铁钱和金、银。为了携带方便，北宋前期，四川地区出现“交子”，这是世界上最早的纸币。纸币的产生，为商业发展提供了便利条件。

四、1.由于商业的发展，宋朝的城市周围和农村的交通要道附近，出现了大量贸易集市。许多贸易集市吸引了越来越多的定居者，逐渐发展成为城镇。

2.（1）北宋都城东京，是当时世界上著名的大城市。有居民 20 万户。

城内大街小巷店铺林立，热闹非凡。

(2) 东京的城市布局，打破了“坊”、“市”界限，商业活动不再限制在特定的区域。城中还有热闹的夜市。相国寺周围是个大型的热闹场所，每逢庙会，各地商人到这里出售各种货物。

(3) “瓦肆”是城中的娱乐场所，那里有戏曲、杂技和武术表演等。

(4) 汴河从西向东横贯东京城，成百上千的大小货船，载来了各地的粮食和货物。

复习题一

- 一、 1. B 2. C 3. A 4. B 5. D
6. B 7. D 8. A 9. B 10. B
11. C 12. D 13. D 14. C 15. B
16. B 17. D 18. A 19. B 20. D

二、 1. 581 907 封建 2. 房玄龄 杜如晦 3. 曲辕犁 筒车 4. 阿尔泰 6 5. 回纥 9 新疆 6. 印度 玄奘 7. 隋 700 8. 隋文帝武则天 9. 李白 杜甫 10. 马球 围棋 11. 10 11 12. 1038 兴庆 1115 会宁 13. 李纲 宗泽 14. 30 钧 汝 15. 泉州 明州

三、填图题

1. A. 永济渠 B. 通济渠 C. 邗沟 D. 江南河

中心是：洛阳

2. A. 西夏 B. 南宋 C. 金
 临安 中都 兴庆

四、 1. 指的是吐蕃的赞普松赞干布与唐朝的文成公主结婚。

对加强汉、藏两族的联系和发展吐蕃的经济文化产生了重要作用。

2. 孙思邈。

孙思邈是我国唐朝时最杰出的医学家。他写成《千金方》，记载了 800 多种药物和 5000 多个药方，在我国医学史上占有重要地位。他被后世尊为“药王”。孙思邈的医德也很高。穷人找他看病，他不但不收诊金，还送药给人。

五、 1. “海东盛国”：指的是唐朝时粟末靺鞨政权。7 世纪末，粟末部首领大祚荣统一各部，建立政权。8 世纪前期，唐玄宗授大祚荣为渤海郡王，从此，粟末靺鞨政权以渤海为号。渤海经济发达，和内地贸易往来频繁。都城上京仿长安城建造。渤海文化较高，史称“海东盛国”。

2. 鉴真：鉴真是唐朝时的著名僧人。他少年时出家，学问渊博。唐玄宗时，他应日本僧人邀请，出生入死，六次东渡，第六次终于到达日本。鉴真留居日本十年，对日本建筑、医学、艺术等方面有突出贡献。鉴真在奈良设计创建的唐招提寺，日本人民视为艺术明珠。后来，他在日本逝世。

3. 杯酒释兵权：北宋建立后，为巩固统治，宋太祖按宰相赵普的建议采取措施，加强中央集权。他首先利用设酒宴的手段，解除石守信等统军大将的兵权。这就是有名的“杯酒释兵权”。

4. 西辽：辽灭亡以后，契丹贵族耶律大石收集残余力量，向西越过沙漠，来到新疆和中亚地区，建立政权，史称西辽。西辽疆域广阔，存在了 80 多年。它在开发我国新疆地区和促进中外文化交流等方面，作出了贡献。

五、 1. (1) 形成：安史之乱期间和以后，唐朝增设许多节度使。不少节度使

管辖的地区，名义上是唐朝的藩镇，实际上是割据势力。他们自行委派官吏，不向中央交赋税，军队不听中央调动，节度使职位传子或部将。这样，就出现了藩镇割据的局面。

(2) 影响：藩镇之间，藩镇和中央之间，不断战争，一直持续到唐朝灭亡。藩镇割据局面的出现，严重削弱了唐朝后期的统治力量。

2.(1) 岳飞是南宋的抗金名将。南宋初年，他曾率军收复了被金军占领的建康。

(2) 岳飞的部队以纪律严朗著称，“冻死不拆屋，饿死不掳掠”，被人们称为“岳家军”。岳家军作战勇敢，金军对他们十分害怕。

(3) 1140年，金军又向南宋大举进攻，南宋派兵分路抵抗。岳飞带领的中路军，在郾城大败金将兀术的主力骑兵，乘胜收复了许多失地。

(4) 正当抗金斗争顺利发展的时候，宋高宗和权臣秦桧害怕抗金力量的壮大，会威胁自己的统治，于是向金求和。宋高宗连下诏令，命岳飞等人班师。

(5) 1141年，宋高宗解除岳飞、韩世忠等人的兵权，与金讲和。秦桧还指使爪牙诬陷岳飞，以谋反罪名杀害了他。

(6) 岳飞坚持抗金的正义斗争，赢得了广大人民的尊敬。

3.(1) 南宋时期，由于政府提倡，水稻在淮河和黄河流域大力推广种植。从越南引入的优良品种占城稻，也得到推广。水稻在宋朝统治区内，逐渐跃居粮食产量首位。太湖流域成为重要的粮仓。江南地区，由于北方人口的迁入，麦田面积迅速增加；许多丘陵、山地，还种上了粟、麦、豆等作物。

(2) 北宋时，棉花在两广和福建普遍种植起来，到南宋后期扩展到长江流域。棉花在两宋逐渐成为一项重要的经济作物。宋朝茶树种植很广，许多农民以种茶为生。南方的甘蔗、柑桔、荔枝等生产也很兴旺，许多人家成为经济作物的专业经营者。

(3) 辽、夏、金政权，对农业也相当重视。辽、金时，东北地区的农业开发效果显著。

第 16 课

一、1.C 2.D 3.C

二、1. 1206 铁木真 2. 1271 大都 元世祖 3. 畏兀儿 农民 地主 4. 唐波斯回

三、文天祥。

“汗青”是指史书。“虏”是指元军。

表达了文天祥反抗民族压迫的坚贞不屈的崇高气节。

四、(1) 元朝的疆域，比以往任何朝代都辽阔。

(2) 元政府建立行省制度，对全国实行有效的统治。在中央设中书省，作为全国最高行政机构。大都及周围大片地区，由中书省直接管辖。其他地方设行中书省，简称“行省”或“省”。行省制度对后世影响深远。

(3) 元政府设有澎湖巡检司，管辖澎湖和琉球。元朝在西藏委派官吏，驻扎军队，清查户口，征收赋税。西藏成为元朝的正式行政区。

第 17 课

一、1.A 2.D 3.B

二、1.会通 大都 2.刘家港 黄 直沽 3.马可波罗 元世祖 马可波罗行纪

三、这段话是元世祖说的。

这段话说明了国家与农业的关系，说明了元世祖重视发展农业。

四、1.黄道婆：黄道婆是我国古代杰出的女纺织家。她是松江人，年轻时流落到海南岛，从黎族人那里学到先进的棉纺织技术。回到家乡后，她把学到的技术传授开来，还改进了棉纺织工具。黄道婆对我国的棉纺织业的发展有很大贡献。

2.元大都：大都是元朝的都城，它不仅是元朝的政治中心，还是闻名世界的商业大都市。从海道、运河和陆路，都有大量商品进入大都。来自亚洲、非洲和欧洲的商人和使节，络绎不绝。大都文化繁荣，是元朝的戏剧中心，聚集了许多著名的戏剧家、诗人和画家。书画家赵孟 、戏剧家关汉卿等都在大都生活过。

五、（1）元世祖多次下令禁止圈占农田作牧场。

（2）他在中央设立专管农业的机构，派人到地方检查农业生产和水利建设情况，把户口增加和田地开垦的多少，作为考核地方官政绩的主要标准。

（3）他在位期间，还修治了黄河。北方残破的农业经济得到了恢复和发展。

第 18 课

一、1.B 2.C 3.B

二、1.战国 磁石 司南 2.无 农书 3.北宋 营造法式 4.洛阳 安平

三、沈括：沈括是我国北宋时期杰出的科学家。他的科学研究，涉及天文、历法等许多方面。他创制的“十二气历”，是一种先进、合理的历法。沈括著有《梦溪笔谈》一书，内容广泛，记述了我国古代许多科技成就，也包括沈括自己的不少科学创见。

四、1.（1）北宋时候，平民毕昇发明活字印刷术。

（2）活字印刷既经济，又省时，促进了文化的传播和发展，是我国对世界文明的卓越贡献。活字印刷术后来陆续传到朝鲜、日本、埃及和欧洲。欧洲到 15 世纪才有活字版，比毕_____的发明晚 400 年。

2.（1）郭守敬是我国古代著名的天文学家和水利专家。

（2）元世祖时，他编成《授时历》。《授时历》一年的周期与现行公历相同，但比现行公历的确立早 300 年。

（3）郭守敬主持和亲自参加了元朝规模空前的天文测量。这次观测，最北的观测点是北海，在今西伯利亚。最南的观测点是南海，在今西沙群岛。

（4）他还主持开凿通惠河，出色地解决了工程中的许多难题。

第 19 课

一、1.D 2.A 3.B

二、1.南宋 通鉴 纪事 本末 2.无杂剧 散曲 王实甫 3.石鼓 应天 白鹿洞

三、 题目是《示儿》，作者是陆游。
表达了陆游渴望祖国统一的思想感情。

陆游是我国南宋杰出的诗人。他的诗留存至今的有 9000 多首，是我国古代作品最多的诗人。陆游的诗，题材广泛，感情充沛，风格气象万千，语言平易而精练。

四、 1. 资治通鉴：北宋史学家司马光主持编写的《资治通鉴》，是一部编年体的通史巨著。这部书按年、月、日顺序，叙述从战国到五代 1300 多年的历史。全书取材广泛，叙事明晰，文笔生动，对研究我国古代历史有重要参考价值。

2. 欧阳修：我国北宋时期著名的文学家，唐宋八大家之一。他学识渊博，文名满天下。他继唐朝韩愈、柳宗元之后，继续推进古文运动。他提倡文章要明确表达思想和反映现实生活。反对辞藻华丽、内容空洞的文风。他的散文明白易晓，清新活泼，语言流畅。《醉翁亭记》是欧阳修的代表作。

五、 1. 宋朝文学的主要成就是词。词是一种新体诗歌，唐朝时已出现，最初在民间流行。句子有长有短，便于演唱。经过五代到两宋，词获得极大发展。两宋时期，优秀词人和词作层出不穷。

2. 苏轼扩展了词的内容，着重表达豪迈奔放的思想感情，描绘雄浑壮观的景物，给词注入了强劲的生命力，对后世影响很大。他的代表作有《念奴娇·赤壁怀古》、《水调歌头·明月几时有》等。

第 20 课

一、 1.A 2.A 3.D 4.B

二、 1. 李公麟 五马图 2. 苏轼 米芾 3. 宋太祖 大藏经

三、 《清明上河图》：《清明上河图》是宋朝张择端的著名作品。它描绘了北宋东京汴河沿岸风光和繁华景象。画面上的人物、街市、材野、车船等等，安排得错落有致。这幅画是我国美术史上的不朽作品。

四、 元朝统治者对各种宗教采取兼容并包政策，佛教、道教、伊斯兰教、基督教都得到发展。元朝最盛行的是佛教。佛教中的一个派别喇嘛教来自吐蕃地区，势力很大。

第 21 课

一、 1.C 2.B

二、 1. 郭子兴 高筑墙，广积粮，缓称王 2. 1368 洪武阴 太祖 3. 徐达 常遇春 顺 4. 五经 大学论语 5. 明成祖 北京

三、 是元朝末年在社会上流传的散曲。

反映元朝末年统治腐朽，当时奸臣当道，统治者变更货币，使得物价飞涨，经济崩溃，引起红巾军大起义爆发。

四、 1. (1) 在地方，明朝废除行中书省，设三司，都直属中央。

(2) 在中央，明太祖撤销中书省，不再设丞相，由六部分理朝政，直接对皇帝负责。全国军政大权集于皇帝一人。

(3) 明太祖另设殿阁大学士，以备顾问。

(4) 为了监视官吏和镇压人民，明太祖授权侍卫亲军锦衣卫，兼管侦察、

逮捕和审讯的事。锦衣卫由皇帝直接指挥，不受司法部门管辖。

2. (1) 起因：明太祖时，藩王势力日益膨胀，封在北京的燕王朱棣势力尤其强大。明太祖死后，孙子建文帝继位。他听取大臣的建议，实行削藩政策。

(2) 经过：朱棣先发制人，打着“靖难”的旗号，在 1399 年起兵南下。历史上称这次争夺皇位的战争为“靖难之役”。

(3) 结果：1402 年，靖难之役以朱棣胜利告终。朱棣夺得帝位，他就是明成祖。

第 22 课

一、1.D 2.C 3.B

二、1. 杭州 山西 蜀锦 2. 青花 景德镇 3. 火药 焦炭 遵化 4. 手工工场
资本家 雇佣工人资本主义

三、1. 出自于明太祖朱元璋。

经过十几年的战争，明朝初年，人口减少，田地荒芜。为安定社会和增加财政收入，明太祖采取休养生息政策。

重视农业发展。政府奖励垦荒，实行屯田和兴修水利。到明太祖后期，田地大量开垦，军队粮食基本自给，政府税收大大增加。

2. 明朝。

说明明朝时松江（在今江苏境内）和魏塘（在今浙江境内）的棉织业十分发达。

第 23 课

一、1.D 2.C 3.B 4.B

二、1. 文莱印度 2. 1405 七 红 3. 意大利 徐光启 儒

三、1. (1) 早在唐朝时候，我国就有人远涉重洋，到南洋一带谋生。郑和下西洋以后，我国人民去南洋的更多了。明后期，南洋华侨以在吕宋、爪哇聚居的较多。

(2) 华侨带去先进的生产技术和文化知识，积极投入南洋的开发和建设。

(3) 华侨的辛勤劳动，促进了南洋经济和文化的发展

2. (1) 元末明初，日本的武士、商人和海盗，经常骚扰中国沿海地区。沿海居民称他们为倭寇。

(2) 明朝中期，海防松弛，倭寇猖獗。明政府派戚继光到浙东抗倭。他组织了一支抗倭队伍，经过严格训练，作战勇敢，纪律严明。人们称为戚家军。

(3) 1561 年，戚家军在台州抗倭，九战九捷，迅速荡平浙江的倭寇。接着，戚继光又率军开赴福建、广东，和另一位将领俞大猷共同抗倭。1565 年，倭寇基本肃清。

(4) 戚继光抗倭使我国沿海人民免受倭寇之害，保卫了中华民族的利益，所以说戚继光是抗击外来侵略的民族英雄，他的抗倭业绩永远载入史册。

第 24 课

一、1.14 鞑靼 2.15 建州 农耕 渔猎 3.努尔哈赤 赫图阿拉 沈阳 4.1636 满洲 清太宗

二、是明朝大臣于谦的诗句。

于谦早在少年时代就立志救国救民。1449 年土木之变后，他在明景帝支持下组织北京军民抵抗瓦剌军队，取得了北京保卫战的胜利。

三、1.土木之变：1449 年，瓦剌首领也先率大军南下，与明军在土木堡大战，明英宗被俘，史称“土木之变”。从此，明王朝由强盛转向衰落。

2.萨尔浒之战：是中国古代战争史上一次以少胜多的著名战役。1619 年，明朝大将杨镐调集大军，分路讨伐，想一举消灭后金。努尔哈赤集中少数人马，在萨尔浒先歼灭明军西路军队，接着，连败明军，大获全胜。后金从此取得对明作战的主动权。

四、1.(1)从 16 世纪 40 年代起，鞑靼俺答汗多次主动向明朝提出互市要求。到 70 年代初，明朝封俺答汗为顺义王，开放大同、宣化府等处互市，交换双方需要的物品。

(2)俺答汗和夫人三娘子修建的呼和浩特城，很快发展成为蒙古地区同内地贸易的商业城市。

(3)俺答汗吸收汉人在蒙古地区发展农业，修建城池、房屋。他还让子弟学习汉文书籍。

2.(1)经济上，重视农业生产和改进手工业技术。

(2)政治上，注意选拔人才，改革机构。

(3)军事上，笼络联合蒙古各部，同时，几次派兵攻入长城以内。

第 25 课

一、1.B 2.D 3.A 4.C 5.B

二、1.1628 陕北 2.均田免粮 朱常洵 3.顺治 多尔袞 4.成都大西 5.史可法 扬州

三、东林党：明神宗时，一些正直的士大夫，反对奸臣和宦官把持朝政，形成“东林党”。因为他们在无锡东林书院讲学、议论朝政，故名。明熹宗时，东林党揭露魏忠贤的专横跋扈，遭到魏忠贤的残酷迫害。统治阶级内部斗争的激烈，表明明王朝的衰败。

第 26 课

一、1.D 2.C 3.C 4.D 5.B 6.A

二、1.鸭绿江 嘉峪关 6000 2.明 徐霞客游记 石灰

三、1.《本草纲目》：是我国古代一部具有总结性的药物学巨著，共 190 万字，收入药物“800 多种，收入药方 1 万多个。《本草纲目》的作者是明朝杰出的医药学家李时珍。这部书内容丰富，考订详细，现已陆续译成多种文字，成为世界医药学的重要文献。

2.徐光启：徐光启是明朝后期杰出的科学家。他和意大利的利玛窦往来密切，共同翻译了欧洲的数学著作。他编著的《农政全书》，是一部农业百

科全书。书中记载了我国古代有关农业的理论和科学方法，还介绍了西方科学知识。这部书在农学史上，有重要地位。

四、(1) 因为他们对腐败的君主专制制度和封建礼教展开了猛烈的批判，并且发展了唯物主义思想。这些思想具有民主的色彩，反映了时代的要求。

(2) 李贽认为孔子的言论，不能作为今天的是非标准。他批判了划分“高下贵贱”的封建等级制度，反对封建礼教，提倡男女平等。

(3) 王夫之是唯物主义思想家。他认为，世界是由物质构成的，自然和社会都在不断地变化着。所以，他要求改革政治，反对几千年来的君主专制。

(4) 黄宗羲抨击君主专制统治是“天下之大害”，主张限制君权。他批驳轻视工商业的传统观念。他还十分重视实践。

(5) 顾炎武反对君主专制。他提倡踏实钻研、学以致用学风。

第 27 课

一、1.D 2.A

二、1. 汤显祖 封建礼教 2. 文征明 仇英

三、1. (1) 明代的三大奇书指的是《三国演义》、《水浒传》和《西游记》

(2) 《三国演义》成书于元末明初，是我国最早的一部长篇历史小说。作者罗贯中在书中描写了东汉末年和三国时期错综复杂的政治和军事斗争。故事情节生动曲折，人物形象栩栩如生。这部小说至今仍为人们所喜读。

(3) 《水浒传》成书于元末明初，是我国第一部以农民起义为题材的长篇小说。作者施耐庵在书中描写和歌颂了北宋晚期宋江领导的山东梁山泊农民起义。

(4) 《西游记》成书于明朝中期，是一部浪漫主义的长篇神话小说。作者吴承恩在书中成功地塑造了孙悟空这个神通广大、敢于造反的英雄形象，反映了人民蔑视封建统治，勇于斗争的精神。

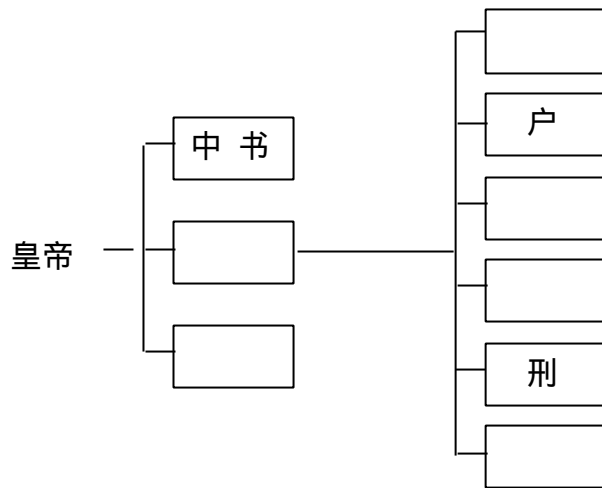
2. 明朝后期绘画方面的代表人物有：徐渭创泼墨花卉，他是花鸟画坛的主将。反映现实生活的山水画是董其昌。明末的陈洪绶是著名的人物画家。

复习题二

一、1.D 2.B 3.B 4.B 5.C
6.B 7.A 8.D 9.C 10.C
11.B 12.C 13.C 14.A 15.C
16.B 17.D 18.A 19.B 20.C

二、1. 三 2. 越 邢 3. 维吾尔 藏 4. 造纸 非 欧 5. 唐颜真卿 6. 内蒙古 兴庆 北京 7. 丝织品 象牙 8. 北京 天津 9. 元 鲁 阴 善 月 10. 福建 美 11. 16 1553 葡萄牙 12. 努尔哈赤 出则为兵，入则为民 13. 宫 京 14. 顾炎武 李贽 15. 草书 董其昌

三、1.



2.

名 称	民 族
	蒙古
色目	西夏
	汉
南	南宋

- 四、1. 陆游
张养浩
李清照
马致远
苏轼
2. 辛弃疾
吴承恩
李白
柳宗元
汤显祖
- “王师北定中原日，家祭无忘告乃翁。”
“兴，百姓苦。亡，百姓苦。”
“知否？知否？应是绿肥红瘦。”
“夕阳西下，断肠人在天涯。”
“江山如画，一时多少豪杰。”
《破阵子·醉里挑灯看剑》
《西游记》
《早发白帝城》
《黔之驴》
《牡丹亭》

- 五、1. A. 通惠河 B. 会通河
通州 直沽 刘家港 杭州
2. A. 瓦剌 B. 鞑靼
嘉峪关 北京 鸭绿江

六、1. “上”指唐太宗李世民。
论点是：兼听则明，偏听则暗。
表现了“上”善于纳谏的作风，也表现了魏征的敢于直言上谏和善于总结经验教训的作风。

2. 指的是明太祖朱元璋。
全国的军政大权完全集中在皇帝一人手中，封建专制主义得到进一步加强。

七、1. 松赞干布：松赞干布是吐蕃赞普、杰出的政治家。7世纪前期，他统

一青藏高原，定都逻些。他几次向唐求婚。唐太宗把文成公主嫁给他。这对加强唐蕃友好和发展吐蕃经济文化，有重要作用。

2. 安史之乱：755年，节度使安禄山趁唐朝政治腐败、内地兵力空虚，在范阳发动叛乱。后来，安禄山的部将史思明又起兵反唐。直到763年，唐朝才打败叛军。这场持续8年的战争，历史上叫作“安史之乱”。安史之乱是唐朝由盛而衰的转折点。

3. 行省制度：元朝的疆域，比以往任何朝代都辽阔。元建立行省制度，对全国实行有效的统治。在中央设中书省，作为全国最高行政机构。大都及周围大片地区，由中书省直接管辖。其它地方设行中书省，简称“行省”或“省”。行省制度对后世影响深远。

4. 北京保卫战：1449年，当土木堡之变的消息传到北京，明英宗的弟弟做了皇帝，就是明景帝。也先掳到英宗，进一步兵临北京城下。景帝支持大臣于谦，组织北京军民抵抗，取得北京保卫战的胜利。也先被迫撤军。

八、1. 元朝的统一，促进了民族的融合

(1) 元朝统一后，许多汉族人民来到边疆，为那里的开发作出贡献。边疆各族包括蒙古族，大批迁入中原和江南，同汉族等族杂居相处。原先进入黄河流域的契丹、女真等族，经过长期共同生活，已同汉族没有什么差别。

(2) 唐朝以来，就有不少信仰伊斯兰教的波斯人、阿拉伯人，在我国一些地区定居；元朝时候，又有大批迁入中国。他们同汉、蒙、畏兀儿等族，长期杂居相处，互通婚姻，逐渐融合，开始形成一个新的民族——回族。

2. (1) 明朝中后期，苏州，松江等地有许多以纺织为业的“机户”。机户开设“机房”，雇佣工人进行生产。被雇佣的劳动者就是“机工”。他们计日向机户领取工资，维持贫困的生活。这种“机户出资，机工出力”的“机户”，就是手工工场。

(2) 机户是早期的资本家，机工是早期的雇佣工人。他们之间是雇佣与被雇佣的关系，也就是资本主义性质的生产关系。

(3) 明朝中后期的这种资本主义生产关系，只在商品经济繁荣的江南一些地方，稀疏出现。在全国范围，自给自足的自然经济，仍占主要地位。所以说，明朝中后期出现了资本主义萌芽。

3. (1) 背景：明朝前期，我国是世界上富强的国家。为了加强同海外各国的联系，明成祖派遣郑和出使西洋。

(2) 简况

1405年，郑和第一次出使西洋。他率领27000多人，乘宝船200多艘，浩浩荡荡地从刘家港出发。

到1433年，郑和前后航海七次，经历了亚非30多个国家和地区，最远到达非洲东海岸和红海沿岸。

意义：郑和下西洋是世界航海史上的伟大壮举。郑和是中国，也是世界历史上的伟大航海家。郑和的远航，促进了中国和亚非各国的经济交流。促进了我国同亚非各国的友好关系。永乐时期，西洋和南洋的许多国王、使臣和商队，络绎不绝地来中国。

